



भारतीय भूचुंबकत्व संस्थान
INDIAN INSTITUTE OF GEOMAGNETISM
विज्ञान और प्रौद्योगिकी विभाग के अंतर्गत एक स्वायत्त निकाय)
(AN AUTONOMOUS BODY UNDER THE DEPARTMENT OF SCIENCE AND TECHNOLOGY,
GOVT. OF INDIA)
प्लॉट नंबर 5, सेक्टर -18, कलंबोली हाईवे / Plot no.5, sector-18, Kalamboli Highway
न्यू पनवेल, नवी मुंबई / NEW PANVEL, NAVI MUMBAI 410218

महत्वपूर्ण सूचना / IMPORTANT NOTICE

विज्ञापन संख्या : Adv No: 04/IIG/HRD /2025

प्रश्नों और उत्तरों के लिए आपत्तियों को आमंत्रित करना / INVITING OBJECTION(S) TO QUESTIONS AND ANSWERS

प्रवर श्रेणी लिपिक की भर्ती के लिए ओएमआर आधारित लिखित परीक्षा के प्रश्न पत्र और उत्तर कुंजी / QUESTION PAPER AND ANSWER KEY OF OMR BASED WRITTEN TEST FOR RECRUITMENT OF UPPER DIVISION CLERK (POST CODE-09).

Start date to submit Objection(s) along with supporting documents for Upper Division Clerk through email: - **02 Apr 2026**

End date to submit Objection(s) through email: - **04 Apr 2026 (By 1800 HRS)**

All the candidates who appeared in the OMR Based Test/Exam held on 02-04-2026 for the post of Upper Division Clerk are hereby informed that the questions and answer key are uploaded on the Institute's official website through this Notice for inviting objection(s).

Objection(s) if any, is/are to be submitted alongwith proof of document in support of claim and to be forwarded ONLY through email to **iig.recruitment@iigm.res.in**. Objection(s) received through any other mode of communication/channel will not be entertained under any circumstances. If candidates do not submit their objection(s) within stipulated period, then they will not have any right for any future legal claim in any court of law for re-evaluation at later stage of selection process.

In case of equal marks to the candidates, the extant rules/guidelines issued by Government of India will be applicable.

Please note that the selection of candidate for the post/s is/are provisional. In case, at any stage, if the selected candidate falls short of any requirement(s) of Recruitment Notice i.e. essential qualifications/experience as well as short listing criteria, the candidature is liable to be cancelled at any stage.

भर्ती प्रकोष्ठ / Recruitment Cell
आय. आय. जी. / IIG

Question paper for the post of UDC (Post code-09)

1.	<p>निम्नलिखित में से कौन सी एजेन्सी भारत के प्रधानमंत्री को निकट सुरक्षा प्रदान करने के लिए ही कार्य करती है?</p> <p>A. सेंट्रल इंडस्ट्रियल सिक््योरिटी फोर्स (CISF) B. स्पेशल प्रोटेक्शन ग्रुप (SPG) C. दिल्ली पुलिस D. सेंट्रल रिजर्व पुलिस फोर्स (CRPF)</p>
2.	<p>स्वैच्छिक सेवानिवृत्ति चाहने वाले सरकारी कर्मचारी को नियम 48 A के अंतर्गत नियोक्ता अधिकारी को कितनी अवधि की सूचना देनी होती है</p> <p>A. कम से कम एक महीना B. कम से कम दो महीने C. कम से कम तीन महीने D. कम से कम छह महीने</p>
3.	<p>किसी महिला सरकारी कर्मचारी अपनी पूरी सेवा में अधिक से अधिक कितने समय तक के लिए शिशु देखभाल छुट्टी (CCL) ले सकती है?</p> <p>A. 365 दिन B. 500 दिन C. 730 दिन D. 1000 दिन</p>
4.	<p>छुट्टी रियायत यात्रा (LTC) लेते समय कितने दिनों तक के लिए अर्जित छुट्टी (EL) का नकदीकरण कर सकते हैं?</p> <p>A. 5 दिन B. 10 दिन C. 15 दिन D. 20 दिन</p>
5.	<p>सीसीएस (आचरण) नियम, 1964 के अंतर्गत सरकारी कर्मचारी से संबंधित "परिवार के सदस्यों" की परिभाषा में क्या शामिल है?</p> <p>A. पत्नी या पति, चाहे वह सरकारी कर्मचारी के साथ रहते हों या नहीं सरकारी कर्मचारी का बेटा या बेटी या सौतेला बेटा या सौतेली बेटी और जो पूरी तरह से उस पर निर्भर हो B. कोई अन्य व्यक्ति जो खून या शादी से जुड़ा हो B. सरकारी कर्मचारी या सरकारी कर्मचारी की पत्नी या पति से, C. और जो पूरी तरह से सरकारी कर्मचारी पर निर्भर हो D. ऊपर दिए गए सभी</p>
6.	<p>CS (MA) नियम, 1944के अंतर्गतAMA का पूर्ण रूप बताएं?</p> <p>A. अधिकृत चिकित्सा परिचर B. सहायक चिकित्सा अधिकृतकर्ता C. अधिकृत औषध सहायक D. अधिकृत चिकित्सा सहायक</p>

1.	<p>Which among the following agencies exclusively functions to provide proximate security coverage to the Prime Minister of India?</p> <p>A. Central Industrial Security Force (CISF) B. Special protection Group (SPG) C. Delhi Police D. Central Reserve Police Force (CRPF)</p>
2.	<p>A Government servant seeking voluntary retirement is required to give the Appointing Authority a notice of _____ under rule 48 A.</p> <p>A. At least one month B. At least two months C. At least three months D. At least six months</p>
3.	<p>What is the maximum period of Child Care Leave (CCL) a female government servant can take in her entire service?</p> <p>A. 365 days B. 500 days C. 730 days D. 1000 days</p>
4.	<p>What is the maximum number of days of Earned Leave (EL) that can be encashed at the time of availing LTC?</p> <p>A. 5 days B. 10 days C. 15 days D. 20 days</p>
5.	<p>"Members of family" in relation to a Government servant under CCS(Conduct) Rules 1964 includes?</p> <p>A. the wife or husband whether residing with the Government servant or not son or daughter or step-son or step-daughter of the Government servant and wholly dependent on him B. any other person related, whether by blood or marriage to the C. Government servant or to the Government servant's wife or husband, and wholly dependent on the Government servant D. All the above</p>
6.	<p>What is the full form of AMA under CS (MA) Rules, 1944?</p> <p>A. Authorised Medical Attendant B. Assistant Medical Authoriser C. Authorised Medicine Assistant D. Authorised Medical Assistant</p>

7.	<p>सीएस (एमए) नियम, 1944 के तहत लाभार्थियों और उनके परिवार के सदस्यों के उपचार के लिए किसी भी निजी अस्पताल को मान्यता देने और अनुमोदित करने का अधिकार निम्नलिखित में से किसके पास है?</p> <p>A. केन्द्रीय सरकारी कर्मचारी हित संयोजन समिति B. राज्य सरकार C. स्वास्थ्य एवं परिवार कल्याण मंत्रालय D. कार्मिक एवं प्रशिक्षण विभाग</p>
8.	<p>संतान शिक्षा भत्ता छात्रावास सब्सिडी कितने जीवित बच्चों के लिए दावा किया जा सकता है?</p> <p>A. सिर्फ एक B. सिर्फ दो C. सिर्फ तीन D. कोई लिमिट नहीं</p>
9.	<p>संतान शिक्षा भत्ता की निर्धारित प्रतिपूर्ति की रकम ज्ञात करें।</p> <p>A. रु.2250 B. रु.4500 C. रु.2812.50 D. रु.3825</p>
10.	<p>APAR का पूरा रूप बताएं।</p> <p>A. वार्षिक कार्य-निष्पादन मूल्यांकन रिपोर्ट B. वार्षिक सहकर्मी मूल्यांकन रिकॉर्ड C. या तो A या B D. इनमें से कोई नहीं</p>
11.	<p>सरकारी कर्मचारी के अगले उच्च अधिकारी जो APAR लिखते हैं, उन्हें कहा जाता है।</p> <p>A. नियंत्रक अधिकारी B. रिपोर्टिंग अधिकारी C. पुनरीक्षण अधिकारी D. स्वीकरण अधिकारी</p>
12.	<p>इनमें से किस अवधि को APAR लिखने की वार्षिक अवधि बताई जाती है?</p> <p>A. जनवरी से दिसंबर B. जुलाई से जून C. अप्रैल से मार्च D. उपर्युक्त में से कोई नहीं</p>
13.	<p>बिना अनुमति के जानकारी देने का अर्थ है:-</p> <p>A. जिस विषय तक उसे एक्सेस करने की अनुमति नहीं है। B. जिस जानकारी को अपनी निजी अधिकार के अंतर्गत रखने की अनुमति नहीं है। C. A और B दोनों। D. इनमें से कोई नहीं।</p>

7.	<p>Who of the following has the power to recognize and approve any private hospitals for treatment of beneficiaries and their family members under CS (MA) Rules, 1944?</p> <p>A. Central Government Employees Welfare Co-ordination Committee B. State Government C. Ministry of Health and Family Welfare D. Department of Personnel and Training</p>
8.	<p>Reimbursement of Children Education Allowance/Hostel subsidy can be claimed for how many surviving children?</p> <p>A. Only one B. Only two C. Only three D. No limit</p>
9.	<p>Amount Fixed for reimbursement of Children Education allowance is</p> <p>A. Rs.2250 B. Rs.4500 C. Rs.2,812.50 D. Rs. 3825</p>
10.	<p>What is the full form of APAR?</p> <p>A. Annual Performance Assessment Report B. Annual Peer Appraisal Record C. Either A or B D. None of the above</p>
11.	<p>Immediate superior officer of a Government servant who writes the APAR is known as?</p> <p>A. Controlling Officer B. Reporting Officer C. Reviewing Officer D. Accepting Authority</p>
12.	<p>Which among the following is the annual year for writing the APAR?</p> <p>A. January to December B. July to June C. April to March D. None of the above</p>
13.	<p>Unauthorized communication of information means and include:-</p> <p>A. To which he is not authorized to have access. B. Which he is not authorized to keep in his personal custody C. Both (a) & (b) D. None of these</p>

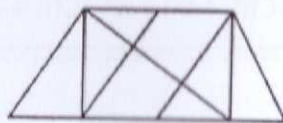
14.	लेखांकन सिद्धांतों के संदर्भ में सदस्यता में निम्नलिखित में से क्या शामिल है? A. चंदा B. निधि C. नकद में इकट्ठा करना D. उपर्युक्त सभी
15.	सरकारी कर्मचारी की छुट्टी के खाते में अर्जित छुट्टी को सेवा के हर केलेण्डर महीने पूर्ण करने परदर पर डाला जाता है। A. 1½ दिन B. 2½ दिन C. 3 दिन D. 5½ दिन
16.	भारत में काम करने वाले किसी भी सरकारी कर्मचारी को एक बार में दी जा सकने वाली अधिक से अधिक कितनी छुट्टी प्रदान की जा सकती है? A. 60 दिन B. 120 दिन C. 180 दिन D. 360 दिन
17.	रिपोर्टिंग अधिकारी, APAR में अपना भाग भरने का कार्य पूरा करने के बाद अपने पर्यवेक्षक को प्रस्तुत करता है जो के नाम से जाने जाते हैं। A. पुनरीक्षण अधिकारी B. उच्च अधिकारी C. मार्किंग अधिकारी D. स्वीकरण अधिकारी
18.	तत्परता एवं शिष्टाचार के संबंध में नियम 3A के अंतर्गत वांछित आवश्यकताएं? A. कार्यालयी कार्य करते समय शिष्टाचार से कार्य का निर्वहन B. शिष्टाचार न निभाना C. सरकारी कार्य में रूखा बर्ताव एवं काम धीमी करना D. जानबूझकर सरकारी काम में देरी
19.	भारत में हाल ही में लागू किया गया वेतन आयोग कौन सा था? A. 6वां वेतन आयोग B. 7वां वेतन आयोग C. 8वां वेतन आयोग D. 9वां वेतन आयोग
20.	वेतन आयोग, इनमें से किन पहलुओं के आधार पर विचार करते हुए अपनी संस्तुतियां प्रदान करता है? A. रहन सहन का खर्चा B. महंगाई दर C. आर्थिक विकास D. उपर्युक्त सभी
21.	CPU संक्षेप का पूरा विवरण दें। A. कंप्यूटर प्रक्रमण यूनिट B. कंप्यूटर प्रधान यूनिट C. केन्द्रीय प्रक्रमण यूनिट D. कंट्रोल प्रक्रमण यूनिट
22.	इनमें से कौन सा कंप्यूटर का मस्तिष्क माना जाता है? A. केन्द्रीय प्रक्रमण यूनिट B. मेमोरी C. बीजगणित एवं लॉजिक यूनिट D. कंट्रोल यूनिट

14.	Subscription in the context of accounting principles includes which of the following? A. Contributions B. Funds C. Collection in cash D. All the above
15.	Earned leave shall be credited to the leave account of Government servant at the rate of __ days for each completed calendar month of service? A. 1½ days B. 2½ days C. 3 days D. 5½ days
16.	The maximum earned leave that may be granted at a time to any Government servant employed in India is? A. 60 days B. 120 days C. 180 days D. 360 days
17.	Reporting Officer, after completing his part of the APAR submits it to his own superior, he is known as the ___ for review. A. Reviewing Officer B. Higher Officer C. Marking Officer D. Accepting Officer
18.	What is the requirement under Rule 3A regarding promptness and courtesy? A. To be courteous in performance of official duties B. To avoid being courteous C. To be rude and slow in official work D. To delay official work intentionally
19.	Which was the most recent Pay Commission implemented in India? A. 6th Pay Commission B. 7th Pay Commission C. 8th Pay Commission D. 9th Pay Commission
20.	What are some of the key factors considered by a Pay Commission while making recommendations? A. Cost of living B. Inflation rates C. Economic growth D. All of the above
21.	What is the full form of CPU? A. Computer Processing Unit B. Computer Principle Unit C. Central Processing Unit D. Control Processing Unit
22.	Which of the following is the brain of the computer? A. Central Processing Unit B. Memory C. Arithmetic and Logic unit D. Control unit

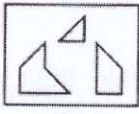
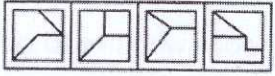
23.	इनमें से कौन सा सर्वर को ऐक्सस कर सकता है? A. वेब क्लायण्ट B. यूज़र C. वेब ब्राऊज़र D. वेब सर्वर
24.	इनमें से केवल वह भाषा जिसे कंप्यूटर समझता है? A. असेम्बली भाषा B. बायनरी भाषा C. BASIC D. C भाषा
25.	कंप्यूटर में डेटा का सबसे छोटा साइज़ A. Byte B. Nibble C. Bit D. KB
26.	MS ऑफिस में MS इनमें से किसका संक्षेप है? A. मुख्य सॉफ्टवेयर B. मास्टर सूट C. माइक्रोसॉफ्ट D. मल्टी-सिस्टम
27.	इनमें से कौन सा अप्लिकेशन माइक्रोसॉफ्ट ऑफिस का एक भाग नहीं है? A. माइक्रोसॉफ्ट फोटोशॉप B. माइक्रोसॉफ्ट ऐक्सल C. माइक्रोसॉफ्ट आऊटलुक D. माइक्रोसॉफ्ट वर्ड
28.	ईमेल अड्रेस के साथ में "Bcc" फील्ड लगाने से क्या होता है? A. प्राप्त कर्ता ईमेल की प्रति प्राप्त करता है और उनका ईमेल अड्रेस केवल "To" प्राप्तकर्ताओं को ही दिखता है B. प्राप्त कर्ता ईमेल की प्रति प्राप्त करता है और उनका ईमेल अड्रेस "To" एवं "Cc" फील्ड वालों को भी दिखाई देता है C. प्राप्तकर्ता ईमेल प्राप्त नहीं करता, लेकिन प्रेषक को डिलीवरी फेल होने की सूचना मिलती है। D. प्राप्त कर्ता ईमेल की प्रति प्राप्त करता है और उनका ईमेल अड्रेस अन्य सभी प्राप्तकर्ताओं से छुपा रहता है।
29.	इनमें से कौन सा DBMS का फीचर नहीं है? A. न्यूनतम पुनरावृत्ति एवं डेटा अतिरेकता B. सुरक्षा का उच्च स्तर C. केवल एकल उपयोगकर्ता ऐक्सस D. ACID प्रापर्टी को समर्थन
30.	माइक्रोसॉफ्ट वर्ड में आप डॉक्यूमेंट को सेव कैसे करेंगे? Ctrl + S B. Ctrl + P C. Ctrl + F D. Ctrl + A

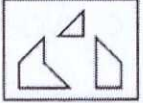
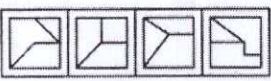
23.	Which of the following can access the server? A. Web Client B. User C. Web Browser D. Web Server
24.	The only language which the computer understands is _____ A. Assembly Language B. Binary Language C. BASIC D. C Language
25.	The smallest unit of data in computer is _____ A. Byte B. Nibble C. Bit D. KB
26.	What does MS stand for in MS Office? A. Main Software B. Master Suite C. Microsoft D. Multi-System
27.	Which of the following applications is NOT part of Microsoft Office? A. Microsoft Photoshop B. Microsoft Excel C. Microsoft Outlook D. Microsoft Word
28.	What is the primary effect of adding an email address to the "Bcc" field? A. The recipient receives a copy of the email and their email address is visible only to the "To" recipients. B. The recipient receives a copy of the email and their email address is visible to all recipients including those in the "To" and "Cc" fields. C. The recipient does not receive the email, but the sender is notified of a failed delivery. D. The recipient receives a copy of the email, and their email address is hidden from all other recipients.
29.	Which of the following is not a feature of DBMS? A. Minimum Duplication and Redundancy of Data B. High Level of Security C. Single-user Access only D. Support ACID Property
30.	How do you save a document in Microsoft Word? A. Ctrl + S B. Ctrl + P C. Ctrl + F D. Ctrl + A

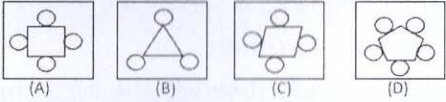
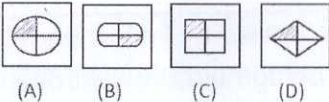
31.	ओडोमीटर माइलेज के लिए वैसा ही है, जैसे कॉम्पस के लिए A. गति B. हाइकिंग C. सुई D. दिशा
32.	प्लावित : डूबना :: नाव : ? A. जहाज B. युद्ध C. पनडुब्बी D. मिसाइल
33.	दमे की बीमारी : फेफड़े :: कन्जक्टिवाइटिस : ? A. हड्डी B. दांत C. आंखें D. रक्त
34.	कारण के साथ इनमें से असंगत की पहचान करें। A. जॉर्ज डबल्यू बुश B. व्लाडमिर पुटिन C. डोनाल्ड ट्रम्प D. नरेन्द्र मोदी
35.	कारण के साथ इनमें से असंगत की पहचान करें। A. केला B. नारंगी C. अनानस D. अंगूर
36.	कारण के साथ इनमें से असंगत की पहचान करें। A. B B. E C. G D. H
37.	तथ्य 1: सभी कुत्तों को दौड़ना पसंद है। तथ्य 2: कुछ कुत्तों को तैरना पसंद है। तथ्य 3: कुछ कुत्ते अपने मालिकों जैसे दिखते हैं। यदि पहले तीन कथन तथ्य हैं, तो नीचे दिए गए कथन में से कौन सा कथन तथ्य है? I. सभी कुत्ते जो तैरना पसंद करते हैं, वे अपने मालिकों जैसे दिखते हैं। II: कुत्ते जो तैरना पसंद करते हैं, वे दौड़ना भी पसंद करते हैं। III: कुत्ते जो दौड़ना पसंद करते हैं, वे अपने मालिकों जैसे नहीं दिखते। A. केवल I B. केवल II C. केवल III D. कोई भी स्टेटमेंट पता फैक्ट नहीं है।
38.	Find the number of triangles in the given figure. A. 8 B. 10 C. 12 D. 14

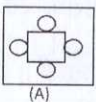
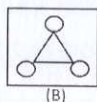
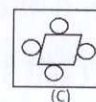
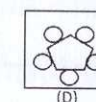






31.	<p>Odometer is to mileage as compass is to</p> <p>A. Speed B. Hiking C. Needle D. Direction</p>
32.	<p>Float :Sink :: Boat : ?</p> <p>A. Ship B. War C. Submarine D. Missile</p>
33.	<p>Asthma :Lungs :: Conjunctivitis : ?</p> <p>A. Bones B. Teeth C. Eyes D. Blood</p>
34.	<p>Pick odd one out and with reason, George W. Bush, Vladimir Putin, Donald Trump, Narendra Modi.</p> <p>A. George W. Bush B. Vladimir Putin C. Donald Trump D. Narendra Modi</p>
35.	<p>Pick odd one out with reason.</p> <p>A. Banana B. Orange C. Pineapple D. Grapes</p>
36.	<p>Pick odd one out.</p> <p>A. BB. E C. G D. H</p>
37.	<p>Fact 1: All dogs like to run. Fact 2: Some dogs like to swim. Fact 3: Some dogs look like their masters.</p> <p>If the first three statements are facts, which of the following statements must also be a fact?</p> <p>I: All dogs who like to swim look like their masters. II: Dogs who like to swim also like to run. III: Dogs who like to run do not look like their masters.</p> <p>A. I only B. II only C. II and III only D. None of the statements is a known fact.</p>
38.	<p>Find the number of triangles in the given figure.</p> <p>A. 8 B. 10 C. 12 D. 14</p> <div data-bbox="558 1758 845 1892" data-label="Diagram"> </div>

39.	<p>26/07/2022 को सचिनका जन्मदिन है और वह जन्मदिन के लिए पार्टी की योजना बना रहा है। वह इस यादगार शाम को मनाना चाहता है, लेकिन उसका दोस्त बहुत शर्मीला है जो शाम को घर पर कुछ काम करके इनडोर गेम्स खेलकर समय बिताना पसंद करता है और उसे खाना-पीना भी बहुत पसंद है। सचिन ने एक ऐसा रेस्टोरेंट चुना जो शहर में सबसे अच्छा खाना परोसता है, तो सचिन को कौन सा रेस्टोरेंट चुनना चाहिए ताकि उसका दोस्त उसके साथ पार्टी में आ सके?</p> <p>A. बेबियन रेस्टोरेंट क्योंकि यह शहर में सबसे अच्छा खाना सर्व करता है। B. चंद्रकला क्योंकि यह उसके दोस्त का पसंदीदा डोसा सर्व करता है जो दूसरों के मुकाबले सबसे अच्छा और सस्ता है। C. बीकानेरवाला क्योंकि यह दूसरों के मुकाबले सबसे अच्छी चाट और कॉफी सर्व करता है। D. रॉयल स्काई क्योंकि यह एंटरटेनमेंट के लिए पूल कॉर्नर के साथ नॉन-वेज और शराब भी सर्व करता है।</p>
40.	<p>आपको अभी आपके दोस्त ने बताया कि वह अगले दिन होने वाले क्रिकेट मैच के टिकट के लिए प्रबंध कर सकता है। यह इंडिया-पाकिस्तान का मैच है जो आपके शहर में बहुत कम होता है और आप इसे देखने के लिए बहुत उत्सुक हैं। लेकिन, आपका बॉस सिर्फ एक दिन का नोटिस देकर कभी छुट्टी नहीं देता। आपको क्या करना चाहिए?</p> <p>A. सुपरवाइज़र को बताएं कि कोई इमरजेंसी आ गई है और आप छुट्टी लेना चाहते हैं। B. अपने सीनियर ऑफिसर से पूछें कि क्या वह आपको छुट्टी देने का कोई तरीका बता सकते हैं ताकि आप मैच में जा सकें। C. अपने बॉस को बताएं कि आप खराब सेहत की वजह से ऑफिस नहीं आ सकते। D. कोई कहानी बनाएं और अपने सीनियर ऑफिसर से छुट्टी मांगें।</p>
41.	<p>Find out which of the figures (1), (2), (3) and (4) can be formed from the pieces given in figure (X).</p> <p>A. 1 B. 2 C. 3 D. 4</p> <div style="text-align: center;">   </div> <p style="text-align: center;">(X) (1) (2) (3) (4)</p>
42.	<p>एक फ़ोटो की ओर इशारा करते हुए बाजपेयी ने कहा, "वह मेरे भाई के पिता की इकलौती बेटी का बेटा है।" फ़ोटो में दिख रहे आदमी से बाजपेयी का क्या रिश्ता है?</p> <p>A. भतीजा B. भाई C. पिता D. मामा</p>
43.	<p>एक महिला की ओर इशारा करते हुए, अभिजीत ने कहा, "उसकी पोती मेरे भाई की इकलौती बेटी है।" वह महिला और अभिजीत के बीच रिश्ता ज्ञात करें।</p> <p>A. बहन B. दादी C. सास D. माँ</p>

39.	<p>Sachin is planning a birthday party on 26/07/2022. He wants to celebrate this memorable evening, but his friend is a very shy man who would rather spend the evening at home doing some chores and playing indoor games and he is also a food and drink lover. Sachin has chosen a restaurant that serves the best dishes in the city then which restaurant should Sachin choose so that his friend comes to the party with him?</p> <p>A. Babian restaurant as it serves the best cuisine in the city. B. Chandrakala as it serves his friend's favorite dosa which is the best and cheap as compared to others. C. Bikanervala as it serves the best chaat and coffee as compared to others. D. Royal sky as it also serves non-veg and alcohol along with a pool corner for entertainment.</p>
40.	<p>You have just been informed by your friend that he can manage the tickets for a cricket match that is being held the next day. It is an India-Pakistan match which is rare in your city and you are really keen to watch it. However, your boss does not ever grant leave by just giving one-day notice. What should you do?</p> <p>A. Notify the supervisor that an emergency has occurred and you want avail of leave. B. Ask your senior officer if he can suggest a way for you to be excused so you can attend the match C. Inform your boss that you cannot attend office due to ill health D. Cook up a story and ask your senior officer for leave.</p>
41.	<p>Find out which of the figures (1), (2), (3) and (4) can be formed from the pieces given in figure (X).</p> <div style="display: flex; align-items: center; justify-content: center;"> <div style="margin-right: 20px;"> <p>A. 1 B. 2 C. 3 D. 4</p> </div> <div style="text-align: center;">  <p>(X)</p> </div> <div style="margin-left: 20px;">  <p>(1) (2) (3) (4)</p> </div> </div>
42.	<p>Pointing to a photograph. Bajpai said, "He is the son of the only daughter of the father of my brother." How Bajpai is related to the man in the photograph?</p> <p>A. Nephew B. Brother C. Father D. Maternal Uncle</p>
43.	<p>Pointing to a woman, Abhijit said, "Her granddaughter is the only daughter of my brother." How is the woman related to Abhijit?</p> <p>A. Sister B. Grandmother C. Mother-in-law D. Mother</p>

44.	<p>अमर, अकबर और एंथनी की उम्र का कुल योग 80 साल है। तीन साल पहले उनकी उम्र का कुल योग क्या था?</p> <p>A. 71 साल B. 72 साल C. 74 साल D. 77 साल</p>																														
45.	<p>उस चित्र को चुनें जो अन्य से भिन्न है।</p> <p>A. चित्र A B. चित्र B C. चित्र C D. चित्र D</p> <div style="display: flex; justify-content: space-around; align-items: center;">  </div>																														
46.	<p>उस चित्र को चुनें जो अन्य से भिन्न है।</p> <p>A. चित्र A B. चित्र B C. चित्र C D. चित्र D</p> <div style="display: flex; justify-content: space-around; align-items: center;">  </div>																														
47.	<p>उत्तर के चित्रों में से उस चित्र का चयन करें जो निम्नलिखित पांच प्रश्न चित्रों के क्रम में बैठते हैं।</p> <p>प्रश्न चित्र : उत्तर चित्र :</p> <table border="1" style="width: 100%; text-align: center; border-collapse: collapse;"> <tr> <td style="width: 15%;">S</td> <td style="width: 15%;">N</td> <td style="width: 15%;">L</td> <td style="width: 15%;">A</td> <td style="width: 15%;">Y</td> <td style="width: 15%;">X</td> <td style="width: 15%;">O</td> <td style="width: 15%;">C</td> <td style="width: 15%;">S</td> <td style="width: 15%;">E</td> </tr> <tr> <td>↑</td> <td>∞</td> <td>∩</td> <td>∟</td> <td>Y</td> <td>↙</td> <td>↘</td> <td>↗</td> <td>↖</td> <td>↘</td> </tr> <tr> <td>(A)</td> <td>(B)</td> <td>(C)</td> <td>(D)</td> <td>(E)</td> <td>(1)</td> <td>(2)</td> <td>(3)</td> <td>(4)</td> <td>(5)</td> </tr> </table> <p>A. 1 B. 2 C. 3 D. 4</p>	S	N	L	A	Y	X	O	C	S	E	↑	∞	∩	∟	Y	↙	↘	↗	↖	↘	(A)	(B)	(C)	(D)	(E)	(1)	(2)	(3)	(4)	(5)
S	N	L	A	Y	X	O	C	S	E																						
↑	∞	∩	∟	Y	↙	↘	↗	↖	↘																						
(A)	(B)	(C)	(D)	(E)	(1)	(2)	(3)	(4)	(5)																						
48.	<p>किसी विशिष्ट कोड में "SAND" को "UCPF" के रूप में लिखा जाता है। उसी पद्धति के अनुसार "STONE" को कैसे लिखा जाएगा?</p> <p>A. SRLFE B. UNSOP C. UVQPG D. UDLPQ</p>																														
49.	<p>नीचे दिए गए प्रश्न में एक कथन दिया गया है, कथन के बाद निष्कर्ष। और ॥ दिए गए हैं। आपको कथन में दी गई हर बात को सच मानना है, और दोनों निष्कर्षों पर एक साथ विचार करते हुए यह तय करना है कि उनमें से किस कथनकी जानकारी निस्संदेह सही है।</p> <p>कथन: निजी स्कूलों में शिक्षा का स्तर नगरपालिका एवं ज़िला परिषद के स्कूलों से बहुत बेहतर है।</p> <p>निष्कर्ष: 1. नगरपालिका और ज़िला परिषद को अपने स्कूलों में शिक्षा का स्तर सुधारने के लिए गंभीरता से प्रयास करना चाहिए।</p> <p>2. सभी नगरपालिका और ज़िला परिषद स्कूलों को तुरंत बंद कर देना चाहिए।</p> <p>A. सिर्फ निष्कर्ष I सही है B. सिर्फ निष्कर्ष II सही है C. या I सही या II सही है D. न I और न ही II सही है</p>																														

44.	<p>The total of the ages of Amar, Akbar and Anthony is 80 years. What was the total of their ages three years ago ?</p> <p>A. 71 years B. 72 years C. 74 years D. 77 years</p>																				
45.	<p>Choose the figure which is different from the rest?</p> <p>A. Figure A B. Figure B C. Figure C D. Figure D</p> <div style="display: flex; justify-content: space-around; align-items: center;">     </div>																				
46.	<p>Choose the figure which is different from the rest?</p> <p>A. Figure A B. Figure B C. Figure C D. Figure D</p> <div style="display: flex; justify-content: space-around; align-items: center;">     </div>																				
47.	<p>Select a figure from amongst the Answer Figures which will continue the same series as established by the five Problem Figures.</p> <p>Problem Figures: Answer Figures:</p> <div style="display: flex; justify-content: space-around; align-items: center;"> <table border="1" style="border-collapse: collapse; text-align: center;"> <tr><td style="padding: 2px;">S</td><td style="padding: 2px;">N</td><td style="padding: 2px;">L</td><td style="padding: 2px;">A</td><td style="padding: 2px;">Y</td></tr> <tr><td style="padding: 2px;">↑</td><td style="padding: 2px;">2</td><td style="padding: 2px;">N</td><td style="padding: 2px;">Γ</td><td style="padding: 2px;">Y</td></tr> </table> <table border="1" style="border-collapse: collapse; text-align: center;"> <tr><td style="padding: 2px;">x</td><td style="padding: 2px;">O</td><td style="padding: 2px;">C</td><td style="padding: 2px;">S</td><td style="padding: 2px;">E</td></tr> <tr><td style="padding: 2px;">↓</td><td style="padding: 2px;">↘</td><td style="padding: 2px;">↙</td><td style="padding: 2px;">↘</td><td style="padding: 2px;">↙</td></tr> </table> </div> <p>(A) (B) (C) (D) (E) (1) (2) (3) (4) (5)</p> <p>B. 1 B. 2 C. 3 D. 4</p>	S	N	L	A	Y	↑	2	N	Γ	Y	x	O	C	S	E	↓	↘	↙	↘	↙
S	N	L	A	Y																	
↑	2	N	Γ	Y																	
x	O	C	S	E																	
↓	↘	↙	↘	↙																	
48.	<p>In a certain code "SAND" is written as "UCPF". How is "STONE" is written in that code?</p> <p>A. SRLFE B. UNSOP C. UVQPG D. UDLPQ</p>																				
49.	<p>In the question below a statement is given followed by two conclusions numbered I and II. You have to assume everything in the statement to be true, then consider the two conclusions together and decide which of them logically follows beyond a reasonable doubt from the information given in the statement.</p> <p>Statements: The standard of education in private schools is much better than Municipal and Zila Parishad-run schools.</p> <p>Conclusions:</p> <ol style="list-style-type: none"> 1. The Municipal and Zila Pariskad should make serious efforts to improve standard of their schools. 2. All Municipal and Zila Parishad schools should be closed immediately. <p>A. Only conclusion I follows B. Only conclusion II follows C. Either I or II follows D. Neither I nor II follows</p>																				

50.	<p>कथन: जब तक हमारा देश आर्थिक समता हासिल नहीं करता, तब तक राजनैतिक स्वतंत्रता एवं लोकतंत्र का कोई मतलब नहीं होगा।</p> <p>निष्कर्ष: 1. राजनीतिक आज़ादी और लोकतंत्र साथ-साथ चलते हैं। 2. आर्थिक समता से वास्तविक राजनैतिक स्वतंत्रता और लोकतंत्र प्राप्त होता है।</p> <p>A. सिर्फ़ निष्कर्ष I सही है B. सिर्फ़ निष्कर्ष II सही है C. या I सही या II सही है D. न I और न ही II सही है</p>
51.	<p>776 का 25% ज्ञात करें।</p> <p>A. 776/4 B. 388/2 C. 284 D. 194</p>
52.	<p>एक दुकान का बिल रु.533.6 है। दुकानदार ने 10% की छूट दी। दुकानदार को कितनी रकम देनी होगी ?</p> <p>A. रु. 500 B. रु. 480 C. रु. 150 D. रु. 200</p>
53.	<p>ज़ैन ने एक कार्यक्रम के लिए रु. 5000 में टिकट खरीदे। वे उसे 20% प्रीमियम पर बेचना चाहते हैं। टिकटों के विक्रय दर ज्ञात करें।</p> <p>A. Rs.5000 B. Rs.1200 C. Rs.4500 D. Rs.6000</p>
54.	<p>सतीश के पास 15 किलो चीनी है और राय के पास 250 ग्राम चीनी है। सतीश के हिसाब से राय के पास की चीनी का अनुपात बताएं।</p> <p>A. $\frac{3}{25}$ B. $\frac{60}{1}$ C. $\frac{1}{60}$ D. $\frac{15}{25}$</p>
55.	<p>यदि दो संख्याएं तीसरी संख्या से क्रमशः 20% और 50% अधिक हैं तो दोनों संख्याओं का अनुपात ज्ञात करें।</p> <p>A. 2:5 B. 3:5 C. 4:5 D. 6:7</p>
56.	<p>दो संख्याओं के बीच का अनुपात 2:11 है। यदि दोनों संख्याओं के बीच भिन्नता 81 है तो उनमें से छोटी संख्या ज्ञात करें।</p> <p>A. 10 B. 12 C. 16 D. 18</p>

50.	<p>Statements: Until our country achieves economic equality, political freedom and democracy would be meaningless.</p> <p>Conclusions:</p> <ol style="list-style-type: none"> 1. Political freedom and democracy go hand in hand. 2. Economic equality leads to real political freedom and democracy. <p>A. Only conclusion I follows B. Only conclusion II follows</p> <p>C. Either I or II follows D. Neither I nor II follows</p>
51.	<p>Calculate 25% of 776.</p> <p>A. $776/4$ B. $388/2$ C. 284 D. 194</p>
52.	<p>A bill in a shop is Rs. 533.6. Shopkeeper offered 10% discount. What is the amount to be paid to shopkeeper?</p> <p>A. Rs.500 B. Rs.480 C. Rs. 150 D. Rs.200</p>
53.	<p>Zayn bought tickets to concert for Rs. 5000. He wants to sell them at a premium of 20%. What is the selling price of tickets?</p> <p>A. Rs.5000 B. Rs.1200 C. Rs.4500 D. Rs.6000</p>
54.	<p>Satish has 15 kg sugar and Ray has 250 gm. Find the ratio of sugar with of Satish and Ray.</p> <p>A. 3(25) B. 60(1) C. 1(60) D. 15(25)</p>
55.	<p>Two numbers are respectively 20% and 50% more than a third number. The ratio of the two numbers is:</p> <p>B. 2 : 5 B. 3 : 5 C. 4 : 5 D. 6 : 7</p>
56.	<p>The ratio between two numbers is 2 : 11. If the difference between the numbers is 81 find the smaller number.</p> <p>A. 10 B. 12 C. 16 D. 18</p>

57.	तीन संख्याओं का जोड़ 123 है। यदि संख्याएं 1 : 2 : 3 के अनुपात में हैं तो उक्त संख्याओं में से सबसे बड़ी एवं सबसे छोटी संख्या के बीच में भिन्नता ज्ञात करें। A. 31 B. 36 C. 41 D. 46
58.	इनमें से कौन सा सटीक वर्गमूल है? A. 1057B. 625C. 7928D. 64000
59.	दुकानदार एक वस्तु को 600 रुपए में बेचता है। यदि उसे लागत मूल्य से 20% का लाभ होता है तो लाभ ज्ञात करें। A. 100 रुपए B. 250 रुपए C. 500 रुपए D. 120 रुपए
60.	2 दोस्त a और b, क्रमशः 20000 and 30000 रुपयों की रकम के निवेश के साथ कंपनी शुरू करते हैं। यदि उन्हें वर्ष के अंत में 12995 रुपयों का लाभ होता है तो a के प्रतिमाह लाभ ज्ञात करें। A. 649.75 रुपए B. 1082.91 रुपए C. 431.16 रुपए D. 491.8 रुपए
61.	एक आदमी पे अपनी यात्रा के 30% भाग को 85 kmph की गति से पूरा करता है तथा यात्रा के शेष भाग को 33 kmphकी गति से पूरा करता है। पूरी यात्रा में उनके औसत गति को ज्ञात करें। A. 42.6 kmph B. 44.6 kmph C. 46.6 kmph D. 48.6 kmph
62.	65 आदमी एक काम 87 दिनों में पूरा कर सकते हैं। 9 व्यक्तियों द्वारा 125 दिनों की अवधि में किए गए काम की मात्रा को ज्ञात करें। A. 19% B. 19.89% C. 21% D. 22%
63.	इनमें से कौन सी अभाज्य संख्या है? A. 517 B. 559 C. 571 D. 533
64.	5 व्यक्तियों का औसत उम्र 40 है। 5 महिलाओं का औसत उम्र 39 है। उनके 4 बच्चों का औसत उम्र 15 है। उनके परिवार के औसत उम्र ज्ञात करें। A. 45 B. 30.33 C. 90.5 D. 91
65.	यदि मूल रकम 50000 है तथा 4 वर्षों के लिए दर 2% है तो सरल ब्याज़ ज्ञात करें। A. 4000 B. 400 C. 40000 D. 40

57.	The sum of three numbers is 123. If the numbers are in a ratio 1 : 2 : 3, find the difference between the largest and the smallest number. B. 31 B. 36 C. 41 D. 46
58.	Which of the following is a perfect square? A. 1057 B. 625 C. 7928 D. 64000
59.	The shopkeeper sells an article for 600 rupees. If the profit is 20% of the cost price, find the profit. A. 100 rupees B. 250 rupees C. 500 rupees D. 120 rupees
60.	2 friends a and b started a company with 20000 and 30000, respectively. If there was a profit of 12995 rupees at the end of the year find their monthly profit of a. A. 649.75 rupees B. 1082.91 rupees C. 431.16 rupees D. 491.8 rupees
61.	A man travelled 30% of his journey at a speed of 85 kmph and the rest of his journey at a speed of 33 kmph. Find his average speed throughout the journey. A. 42.6 kmph B. 44.6 kmph C. 46.6 kmph D. 48.6 kmph
62.	65 men can do a piece of work in 87 days. Find the amount of work done by 9 men in 125 days. A. 19. B. 19.89% C. 21% D. 22%
63.	Which of the following is a prime number? A. 517 B. 559 C. 571 D. 533
64.	The average age of 5 men is 40. The average age of 5 women is 39. The average age of their 4 children is 15. What is the average age of a family? A. 45 B. 30.33 C. 90.5 D. 91
65.	Calculate the simple interest if the principal amount is 50000 and the rate is 2% for 4 years. A. 4000 B. 400 C. 40000 D. 40

66.	<p>Find the correctly spelt word.</p> <p>A. Efficient B. Treatmeant C. Beterment D. Employd</p>
67.	<p>Find the correctly spelt word.</p> <p>A. Foreign B. Foreine C. Fariegn D. Forein</p>
68.	<p>In the following the question, choose the word that best expresses the meaning of the given word.</p> <p>BRIEF</p> <p>A. Limited B. Small C. Little D. Short</p>
69.	<p>In the following question, choose the word which is the exact OPPOSITE of the given word.</p> <p>ARTIFICIAL</p> <p>A. Red B. Natural C. Truthful D. Solid</p>
70.	<p>In the question below, some parts of the sentence have been jumbled up. Rearrange these parts which are labelled P, Q, R and S to produce the correct sentence. Choose the proper sequence.</p> <p>When he P : did not know Q : he was nervous and R : heard the hue and cry at midnight S : what to do</p> <p>The Proper sequence should be:</p> <p>A. RQPS B. QSPR C. SQPR D. PQRS</p>
71.	<p>A proverb/ idiom is given below together with themeaning. Choose the correct meaning of the proverb/idiom.</p> <p>To keeps one's temper</p> <p>A. To become hungry B. To be in good mood C. To preserve ones energy D. To be aloof from</p>

72.	<p>In question below choose one out of four alternatives which can be substituted for the given word/sentence.</p> <p>Extreme old age when a man behaves like a fool</p> <p>A. Imbecility B. Senility C. Dotage D. Superannuation</p>
73.	<p>Correct the sentence by replacing the phrase in bold with any of the options given below.</p> <p>The small child does whatever his father was done.</p> <p>A. has done B. did C. does D. had done</p>
74.	<p>Correct the sentence by replacing the phrase in bold with any of the options given below.</p> <p>You need not come unless you want to.</p> <p>A. You don't need to come unless you want to B. You come only when you want to C. You come unless you don't want to D. You needn't come until you don't want to</p>
75.	<p>Pick out the most effective word(s) from the given words to fill in the blank to make the sentence meaningfully complete.</p> <p>Fate smiles, those who untiringly grapple with stark realities of life.</p> <p>A. with B. over C. on D. round</p>
76.	<p>Pick out the most effective word(s) from the given words to fill in the blank to meaningfully complete the sentence.</p> <p>The miser gazed at the pile of gold coins in front of him.</p> <p>A. avidly B. admiringly C. thoughtfully D. earnestly</p>

77.	<p>Read the Passage below and answer the questions (77-78) below.</p> <p>But I did not want to shoot the elephant. I watched him beating his bunch of grass against his knees, with the <i>preoccupied grandmotherly</i> air that elephants have. It seemed to me that it would be murder to shoot him. I had never shot an elephant and never wanted to. (Somehow it always seems worse to kill large animal.) Besides, there was the beast's owner to be considered. But I had got to act quickly. I turned to some experienced-looking Burmans who had been there when we arrived, and asked them how the elephants had been behaving. They all said the same thing; he took no notice of you if you left him alone, but he might charge if you went too close to him.</p> <p>From the passage it appears that the author was</p> <ul style="list-style-type: none"> A. an inexperienced hunter B. kind and considerate C. possessed with fear D. a worried man
78.	<p>The author did not want to shoot the elephant because he</p> <ul style="list-style-type: none"> A. was afraid of it B. did not have the experience of shooting big animals C. did not wish to kill animal which was not doing anybody any harm D. did not find the elephant to be ferocious
79.	<p>Read the Passage below and answer the questions (79-80) below.</p> <p>Harold a professional man who had worked in an office for many years had a fearful dream. In it, he found himself in a land where small slug-like animals with slimy tentacles lived on people's bodies. The people tolerated the loathsome creatures because after many years they grew into elephants which then became the nation's system of transport, carrying everyone wherever he wanted to go. Harold suddenly realised that he himself was covered with these things, and he woke up screaming. In a vivid sequence of pictures this dream dramatised for Harold what he had never been able to put in to words; he saw himself as letting society feed on his body in his early years so that it would carry him when he retired. He later threw off the "security bug" and took up freelance work.</p> <p>The statement that 'he later threw off the security bug' means that</p> <ul style="list-style-type: none"> A. Harold succeeded in overcoming the need for security B. Harold stopped giving much importance to dreams C. Harold started tolerating social victimisation D. Harold killed all the bugs troubled him
80.	<p>Harold's dream was fearful because</p> <ul style="list-style-type: none"> A. it brought him face to face with reality B. it was full of vivid pictures of snakes C. he saw huge elephant in it D. in it he saw slimy creatures feeding on people's bodies

81.	इनमें से कौन से अनिवार्य गैर-धात्विक खनिज पदार्थ हैं? A. कोयला, सिलिका, मृदा, सीमेंट B. आयरन, कॉपर, अल्युमिनियम, जिंक C. स्वर्ण, प्लैटिनम, सिल्वर D. ग्रेनाइट, लाइमस्टोन, मार्बल
82.	इनमें से किसमें खारापानी पारिस्थितिकी पाई जा सकती है? A. आर्द्रभूमि B. धाराएँ C. डेल्टा D. तटीय उथले पानी
83.	इनमें से किस ग्रह को "लाल ग्रह" कहा जाता है? A. शुक्र B. मंगल C. बृहस्पति D. शनि
84.	इनमें से कौन सा महासमुद्र विश्व का सबसे बड़ा महासमुद्र कहा जाता है? A. अटलांटिक महासागर B. हिंद महासागर C. आर्कटिक महासागर D. प्रशांत महासागर
85.	इनमें से कौन सा गैस सभी प्रकार की अग्नि का शमन करने के लिए अत्यंत प्रभावी है? A. नाइट्रोजन डायॉक्साइड B. कार्बन डायॉक्साइड C. सल्फर डायॉक्साइड D. नाइट्रस ऑक्साइड
86.	इनमें से कौन सा बैक्टीरिया बैक्टीरिया, दही जमाने के लिए जिम्मेदार है? A. लैक्टिक अम्ल बैक्टीरिया B. लैक्टोबेसिलस असिडोफिलस C. लैक्टोबेसिलस ऑरियस D. बेसिलस रेडिसिकोला
87.	इनमें से कौन सा विकल्प नवीकरणीय ऊर्जा स्रोत का सबसे अच्छा उदाहरण है? A. प्राकृतिक गैस B. कोयला C. सौर पवर D. न्यूक्लियर पवर
88.	सह्याद्रि टाइगर रिजर्व (STR) किस राज्य में स्थित है? A. उड़ीसा B. महाराष्ट्र C. कर्नाटक D. केरल
89.	इनमें से कौन सा देश 'ओलिम्पिक्स खेल' का जन्मस्थान माना जाता है? A. डेनमार्क B. इटली C. ग्रीस D. जर्मनी

81.	Which of these are essential non-metallic minerals? A. Coal, silica, clay, cement B. Iron, copper, aluminium, zinc C. Gold, platinum, silver D. Granite, limestone, marble
82.	In which of these following can we find Brackish water ecosystems? A. Wetlands B. Streams C. Deltas D. Coastal shallows
83.	Which planet is known as the "Red Planet"? A. Venus B. Mars C. Jupiter D. Saturn
84.	Which is the largest ocean in the world? A. Atlantic Ocean B. Indian Ocean C. Arctic Ocean D. Pacific Ocean
85.	Which gas is safe and an effective extinguisher for all confined fires? A. Nitrogen dioxide B. Carbon dioxide C. Sulphur dioxide D. Nitrous Oxide
86.	Which bacteria are responsible for the formation of curd? A. Lactic acid bacteria B. Lactobacillus Acidophilus C. Lactobacillus aureus D. Bacillus radicularis
87.	Which of the following is an example of a renewable energy source? A. Natural gas B. Coal C. Solar power D. Nuclear power
88.	Sahyadri Tiger Reserve (STR) is located in which state? A. Odisha B. Maharashtra C. Karnataka D. Kerala
89.	Which country is the birthplace of the "Olympic Games"? A. Denmark B. Italy C. Greece D. Germany

90.	पुरुष T20 अंतर्राष्ट्रीय क्रिकेट खेल में सबसे अधिकअधिक वैयक्तिक स्कोर A. 156B. 172C. 162D. 144
91.	वर्ष 2025 में T20I मैच में सबसे लंबा रिकॉर्डेड छक्का (129m) मारने वाला खिलाड़ी? A. कीरोन पोलार्ड B. टिम डेविड C. युवराज सिंह D. रासी वैन डेर डुसेन
92.	AI इम्पैक्ट समिट 2026 का उद्घाटन किसने किया? A. कोई टेक CEO B. राष्ट्रपति C. प्रधानमंत्री नरेन्द्र मोदी D. विदेशी नेता
93.	एआई इम्पैक्ट समिट 2026 कितने दिनों तक चलेगा A. 3 B. 4 C. 5 D. 6
94.	बौद्धिक परंपराओं के अनुसार बुद्ध के सारथी कौन थे? A. छन्ना B. कण्टका C. देवदत्त D. चुण्डा
95.	इनमें से कौन सा स्थल चोल वंश के राजाओं के राजतिलक समारोह से संबंधित है? A. तंजावूर B. वेलूर C. चिदम्बरम D. मद्रास
96.	इनमें से किसे "दक्षिणेश्वर का संत" कहा जाता है? A. रामकृष्ण परमहंस B. स्वामी विवेकानंद C. स्वामी दयानंद सरस्वती D. संत टीकाराम
97.	इनमें से किस राज्य की जनसंख्या अत्यंत कम है? A. अरुणाचल प्रदेश B. मिज़ोराम C. जम्मू एवं कश्मीर D. सिक्किम

90.	What is the highest individual score in men's T20 Internationals? A. 156B. 172C. 162D. 144
91.	Which player is known for hitting the longest recorded six (129m) in a T20I match in 2025? A. Kieron Pollard B. Tim David C. Yuvraj Singh D. Rassie van der Dussen
92.	Who inaugurated the AI Impact Summit 2026? A. A tech CEO B. The President C. Prime Minister Narendra Modi D. Foreign leader
93.	How many days does theAI Impact summit 2026 last? A. 3 B. 4 C. 5 D. 6
94.	According to Buddhist traditions, who was Charioteer of Buddha? B. Channa B. Kanthaka C. Devdatta D. Chunda
95.	Which among the following place is related to coronation of Chola Kings? B. Tanjaur B. Vellur C. Chidambaram D. Madras
96.	Who among the following is known as the "Saint of Dakhineshwar"? A. Ramkrishna Paramahansa B. Swami Vivekananda C. Swami Dayanand Saraswati D. Saint Tikaram
97.	Which among the following is the least densely populated states of India? A. Arunachal Pradesh B. Mizoram C. Jammu and Kashmir D. Sikkim

98.	इनमें से किसे "भारत का छोटा स्विट्ज़रलैण्ड" माना जाता है? A. छैल B. शिमला C. मनाली D. खज्जियार
99.	विश्व पैरा एथलेटिक्स ग्रैंड प्रिक्स 2025 के मेडल टैली में किस देश ने सबसे अधिक मेडल प्राप्त किए ? A. चीन B. थाईलैंड C. भारत D. इंडोनेशिया
100.	भारत का संविधान इनमें से किसके द्वारा बनाया गया ? A. ब्रिटिश सरकार B. भारत सरकार C. भारत के लोग D. भारत के वायसराय

98.	Which of the following hill stations is known as the "Mini Switzerland of India"? A. Chail B. Shimla C. Manali D. Khajjiar
99.	Which country topped the medal tally in the World Para Athletics Grand Prix 2025? A. China B. Thailand C. India D. Indonesia
100.	The constitution of India was ordained by which of the following? A. British Government B. Government of India C. People of India D. Viceroy of India

Answer key for the post of UDC (Post Code-09)

	KEYS FOR THE MCQS UDC – EX SERVICEMEN
1.	B
2.	C
3.	C
4.	B
5.	D
6.	A
7.	C
8.	B
9.	C
10.	A
11.	B
12.	C
13.	C
14.	D
15.	B
16.	C
17.	A
18.	A
19.	B
20.	D
21.	C
22.	A
23.	A
24.	B
25.	C

26.	C
27.	A
28.	D
29.	C
30.	A
31.	D
32.	C
33.	C
34.	D
35.	D
36.	B
37.	B
38.	D
39.	D
40.	B
41.	B
42.	D
43.	D
44.	A
45.	B
46.	B
47.	C
48.	C
49.	A
50.	B
51.	D
52.	B
53.	D

54.	B
55.	C
56.	D
57.	C
58.	B
59.	A
60.	C
61.	D
62.	B
63.	C
64.	D
65.	A
66.	A
67.	D
68.	D
69.	B
70.	A
71.	B
72.	C
73.	C
74.	A
75.	C
76.	A
77.	B
78.	C
79.	A
80.	D
81.	A
82.	C

83.	B
84.	D
85.	B
86.	B
87.	C
88.	B
89.	C
90.	B
91.	B
92.	C
93.	C
94.	A
95.	C
96.	A
97.	A
98.	D
99.	C
100.	C